



ROTEIRO DE ATIVIDADES COMPLEMENTARES DE ESTUDO – COVID 19 BASE DIVERSIFICADA (PERÍODO DA TARDE)

ESCOLA MUNICIPAL PROFESSOR SEBASTIÃO FELTRIN.

PROFESSOR: Vilma Maria Rodrigues Chofard. TURMA: 2º Ano - A

COMPONENTES CURRICULARES: Letramento/ Oficina de texto. Matemática extensiva; Jogos de raciocínio; Vida e saúde; Recreação.

PERÍODO DE REALIZAÇÃO: 18 A 22 DE MAIO DE 2020.

Senhores pais e responsáveis

Vocês estão recebendo as **Atividades Complementares de Estudo para o período de isolamento-COVID 19**. Necessito muito de sua participação para que essas atividades sejam realizadas pelo seu filho. Os senhores precisam organizar um tempo, em casa, para a realização das atividades e para que seu filho possa estudar com tranquilidade.

No roteiro a seguir estão as atividades e todas as orientações para sua execução. Tudo está descrito de forma simples. Mas se houver alguma dúvida podem entrar em contato comigo pelo *Whatsapp*, estarei à disposição para ajudar.

Seu filho deverá realizar as atividades no **CADERNO DE ACORDO COM A INDICAÇÃO NO EXERCÍCIO**. Ele terá o período de 18 a 22 de MAIO para concluir essas atividades. No dia 25 (2ª feira) estaremos entregando as atividades da próxima semana e recolhendo essas para que possamos corrigir.

Cuidem-se e cuidem de sua família. Em breve tudo estará bem.

UM ABRAÇO: **Professora: Vilma**

O QUE VAMOS ESTUDAR?	Possibilidades de soma, cálculo mental, leitura, interpretação de parlenda, leitura e interpretação de texto, ortografia NH, escrita de palavras e frases raciocínio lógico.
PARA QUE VAMOS ESTUDAR ESSES CONTEÚDOS?	Desenvolver cálculo mental e raciocínio lógico, compreender a função social do gênero textual parlenda, aprimorar a leitura e escrita.
COMO VAMOS ESTUDAR OS CONTEÚDOS?	Dia 19: Realizar o jogo e no caderno resolver a problematização. Dia 20: Realizar leitura da parlenda e interpretação, resolver as atividades na folha e no caderno. Dia 21: Ler o texto, listar o que faz bem pra saúde, pular corda e desenhar a brincadeira. DIA 22: resolver o desafio e a atividade.



ATIVIDADES COMPLEMENTARES DE ESTUDO – COVID 19

COMO VAMOS REGISTRAR O QUE APRENDEMOS?

Resolvendo as atividades na folha impressa e no caderno.

**ESCOLA MUNICIPAL PROFESSOR SEBASTIÃO FELTRIN.
ROLÂNDIA, 19 DE MAIO DE 2020.
HOJE É TERÇA FEIRA.**

MATEMÁTICA EXTENSIVA/JOGOS DE RACIOCÍNIO

JOGO: CUBRA E DESCUBRA

NÚMERO DE JOGADORES: 2

MATERIAL:

2 DADOS OU FICHAS NUMERADAS DE 1 À 6 (2 VEZES)

TABULEIRO DO JOGO

22 FICHAS DE PAPEL DE TAMANHO SUFICIENTE PARA QUE CUBRA OS NÚMEROS DO TABULEIRO. (11 PARA CADA JOGADOR)

REGRAS:

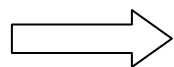
1. CADA JOGADOR COLOCA TODAS AS FICHAS NO SEU LADO DO TABULEIRO, DE MODO A COBRIR TODOS OS NÚMEROS QUE NELE APARECEM.
2. NA SUA VEZ, O JOGADOR LANÇA OS DOIS DADOS, ADICIONA OS PONTOS QUE SAÍREM NOS DADOS E TIRA DO TABULEIRO A FICHA QUE COBRE A SOMA.
3. QUEM ERRA A SOMA PERDE A VEZ DE JOGAR.
4. O VENCEDOR SERÁ AQUELE QUE PRIMEIRO TIRAR TODAS AS FICHAS DO SEU TABULEIRO

2	3	4	5	6	7	8	9	10	11	12
CUBRA E DESCUBRA										
2	3	4	5	6	7	8	9	10	11	12



ATIVIDADES COMPLEMENTARES DE ESTUDO – COVID 19

VOCÊ PODERÁ REPRODUZIR O TABULEIRO OU SE CONSEGUIR PODERÁ UTILIZAR O MODELO ACIMA.



NO CADERNO FAÇA O CABEÇALHO, COPIE OS PROBLEMINHAS E RESOLVA.

- 1) JULIANA JOGOU OS DADOS E TIROU SUA FICHA DO 8. QUAIS NÚMEROS PODEM TER SAÍDO NOS DADOS?
- 2) NA SUA VEZ DE JOGAR TIAGO TIROU 3 EM UM DADO E DESCOBRIU O 9. QUAL NÚMERO SAIU NO OUTRO DADO?

**ESCOLA MUNICIPAL PROFESSOR SEBASTIÃO FELTRIN.
ROLÂNDIA, 20 DE MAIO DE 2020.
HOJE É QUARTA – FEIRA**

LETRAMENTO/OFICINA DE TEXTO

1) LEIA O TEXTO ABAIXO.

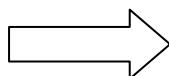
SALADA, SALADINHA

TEM TEMPERADINHA

COM SAL, PIMENTA

FOGO!!!

FOGUINHO!!!



AGORA PEGUE O SEU CADERNO DE CASA, FAÇA O CABEÇALHO. DEPOIS COPIE AS PERGUNTAS SOBRE O TEXTO E RESPONDA COM ATENÇÃO.

- A) QUE TIPO DE TEXTO É ESSE?
- B) QUAL A FINALIDADE DESTE TEXTO, OU SEJA, PARA QUE ELE FOI ESCRITO?

2) OBSERVE AS PALAVRAS SALADINHA E TEMPERADINHA.

QUAL É A SÍLABA FINAL? _____

AGORA VAMOS LER E COPIAR NO SEU CADERNO A FAMÍLIA SILÁBICA DO NH

NHA – NHE- NHI- NHO- NHU



3) JUNTE AS SÍLABAS DO QUADRO E FORME PALAVRAS. VEJA O MODELO

+	NHA	NHE	NHO	NHEI
SO	SONHA			
GA				

+	NHA	NHO	NHÃO
PI			
CAMI			

4) SUBSTITUA OS SÍMBOLOS PELAS SÍLABAS CORRESPONDENTES E ECREVA AS PALAVRAS.

PA	MI	PI	MO	NHO	NHA	CA	RA	NHA
■	▲	■	■	▲	■	▲	■	■

■ _____

▲ _____

■ _____

NI	SO	GA	NHO	BA	LI	NHO	NHA	NHO
○	△	□	○	▭	□	▭	□	△

○ _____ △ _____

□ _____ ▭ _____

5) ORDENE AS PALAVRAS, FORME FRASES E COPIE NO CADERNO.

A)

BICOU

A

MINHOCA.

A

GALINHA

B)

O

COZINHO

A

COZINHEIRA

PINHÃO.



ATIVIDADES COMPLEMENTARES DE ESTUDO – COVID 19

**ESCOLA MUNICIPAL PROFESSOR SEBASTIÃO FELTRIN.
ROLÂNDIA, 21 DE MAIO DE 2020.
HOJE É QUINTA – FEIRA**

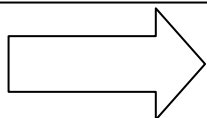
VIDA E SAÚDE E RECREAÇÃO

NOSSO HUMOR E NOSSA SAÚDE

VOCÊ QUER TER SAÚDE? ENTÃO VOCÊ PRECISA TER UM ESTILO DE VIDA SAUDÁVEL. ISSO ENVOLVE, ENTRE OUTRAS COISAS, PRATICAR ATIVIDADE FÍSICA, TER HÁBITOS DE HIGIENE, DORMIR UM NÚMERO ADEQUADO DE HORAS, ALIMENTAR-SE ADEQUADAMENTE E TAMBÉM, MANTER O **BOM HUMOR!**

O HUMOR É MUITO IMPORTANTE PARA A SAÚDE. PARA MANTER O BOM HUMOR, DEVEMOS ENCARAR OS ACONTECIMENTOS DE MANEIRA POSITIVA.

POR EXEMPLO: SE UM BRINQUEDO QUEBRAR, A BRINCADEIRA PODE CONTINUAR. SE FOR UMA BONECA, PODEMOS ENTÃO BRINCAR DE SER “MÉDICOS” PARA TENTAR CONSERTAR O BRINQUEDO QUEBRADO!



AGORA FAÇA UMA LISTA DE COISAS QUE PROMOVE A SAÚDE.

APÓS REALIZAR A ATIVIDADE CONVIDE ALGUÉM DE SUA FAMÍLIA PARA PULAR CORDA, CANTANDO A PARLENDA TRABALHADA NA AULA DE ONTEM. REGISTRE A BRINCADEIRA NO CADERNO COM DESENHO.



ESCOLA MUNICIPAL PROFESSOR SEBASTIÃO FELTRIN.
ROLÂNDIA, 22 DE MAIO DE 2020.
HOJE É SEXTA – FEIRA

MATEMÁTICA EXTENSIVA

DESAFIO

✎ Cinco amigas foram fazer compras e cada uma levou determinada quantia em dinheiro para gastar. Siga as dicas e descubra o nome das garotas e quanto em dinheiro cada uma levou.



Nome _____
R\$ _____



Nome _____
R\$ _____



Nome _____
R\$ _____

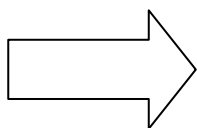


Nome _____
R\$ _____



Nome _____
R\$ _____

- 1- Juliana está de boné e levou R\$ 4,00 a menos que Viviane.
- 2- Viviane tem cabelos pretos, curtos e levou R\$ 2,00 a mais que Carolina.
- 3- Soraia está ao lado de Viviane e levou R\$ 2,50 a menos que Viviane.
- 4- Ana Paula está de trança e levou R\$ 0,50 a menos que Juliana.
- 5- Carolina usa Maria chiquinha e estava levando R\$ 20,00, mas perdeu R\$ 2,00 no ônibus.



NO CADERNO FAÇA O CABEÇALHO E DESENHE DE DUAS MANEIRAS DIFERENTES AS NOTAS DE REAIS NECESSÁRIAS PARA OBTERMOS R\$20,00.